

الرقم السري

الأسم والسبب.....

ر. و. ط. ....

رقم الامتحان:.....

اختبار مادة الرياضيات

الرقم السري

لكل سؤال جواب واحد صحيح المطلوب وضع علامة في خانته1) جداء العددين  $\sqrt[3]{a^2}$  و  $\sqrt[4]{a^3}$  هو:

$$a\sqrt[12]{a^5} \quad \sqrt[12]{a^5} \quad \sqrt[3]{a^3} \quad a\sqrt[4]{a^2(a+1)} \quad \sqrt[4]{a^2(a+1)}$$

2) لتكن  $(u_n)_{n \geq 0}$  المتتالية المعرفة بما يلي:  $u_0 = 1$  و  $u_{n+1} = \frac{1}{3}(1 - u_n)$  لكل  $n$  من  $\mathbb{N}$ نهاية المتتالية  $(u_n)_{n \geq 0}$  هي:

$$0 \quad \frac{1}{3} \quad \frac{1}{4} \quad +\infty \quad -\infty$$

3) لتكن  $(v_n)_{n \geq 0}$  متتالية موجبة قطعا بحيث:  $\frac{v_{n+1}}{v_n} \leq 0,1$  لكل  $n$  من  $\mathbb{N}$ نهاية المتتالية  $(v_n)_{n \geq 0}$  هي:

$$0,1 \quad +\infty \quad 0 \quad -\infty \quad \text{آخر}$$

4) في المستوى العقدي المنسوب لمعلم متعامد ممنظم مباشر نعتبر النقطة  $A$  التي لحقها  $1+i$  والنقطة  $B$  التي لحقها  $\sqrt{3}-i$ .4) المسافة  $AB$  تساوي.

$$\sqrt{6+2\sqrt{3}} \quad \sqrt{3}-1 \quad \sqrt{8-2\sqrt{3}} \quad \sqrt{3}+1 \quad 2-\sqrt{2}$$

4) -2 عمدة العدد العقدي  $\left(\frac{1+i}{\sqrt{3}-i}\right)^{10}$  هو:

$$\frac{\pi}{4} \quad \frac{\pi}{12} \quad \frac{\pi}{6} \quad \frac{5\pi}{12} \quad \text{آخر}$$

(5) التكامل  $\int_0^1 xe^{x^2} dx$  يساوي :

$\frac{1}{2}$    $\frac{e-1}{2}$    $\frac{e+1}{4}$    $e$   آخر

(6) حل المعادلة  $e^x - 5e^{-x} = 4$  هو :

$\ln 2$    $\ln 5$    $-\ln 5$    $2\ln 2$    $0$

(7) لتكن  $f$  الدالة العددية للمتغير الحقيقي  $x$  المعرفة بما يلي:  $f(x) = \frac{\ln(x^2+1)}{\ln(x^2)}$

(7) -1 مجموعة تعريف الدالة  $f$  هي :

$\mathbb{R}^*$    $\mathbb{R}^+ +$    $\mathbb{R}^* - \{-1\}$    $\mathbb{R}^* - \{1, -1\}$    $\mathbb{R}^* - \{1, e\}$

(7) -2 النهاية  $\lim_{x \rightarrow +\infty} f(x)$  تساوي:

$0$    $+\infty$    $1$    $-\infty$   آخر

(8) عدد حقيقي موجب قطعاً. ليكن المستوى  $(P_m): x - y + 2z - m = 0$  ولتكن الفلكة  $(S): x^2 + y^2 + z^2 - 2x - 2y - 2 = 0$

قيمة العدد  $m$  التي من أجلها يكون المستوى  $(P_m)$  مماساً للفلكة  $(S)$  هي:

$\sqrt{6}$    $2\sqrt{6}$    $6\sqrt{6}$    $\frac{\sqrt{6}}{6}$    $2\sqrt{3}$

Nom et Prénom : .....

Date et lieu de naissance : .....

Signature obligatoire : .....

السرية

السرية / Anonymat

**CONSIGNE : ENTOUREZ LA / (LES) BONNE(S) REPONSE(S) POUR CHACUNE DES QUESTIONS SUIVANTES**

1 - خلال انحلال الكليكور ، يحدث مايلي :

- A. تفكك حزينة الكليكور إلى حزيتين من حمض البيروفك.
- B. حلماة 4 حزينات من ال ATP.
- C. تفكك الكليكور إلى حزيتين من حمض البيريميدك.
- D. حلماة حزيتين من ال ATP.

2 - يحدث تفكك حمض البيروفك على مستوى :

- A. الغشاء السيتوبلازمي.
- B. النواة.
- C. السيتوبلازم.
- D. الميتوكوندري.

3 - أثناء التحمر الكحولي تعطي كل حزينة الكليكور ما يلي :

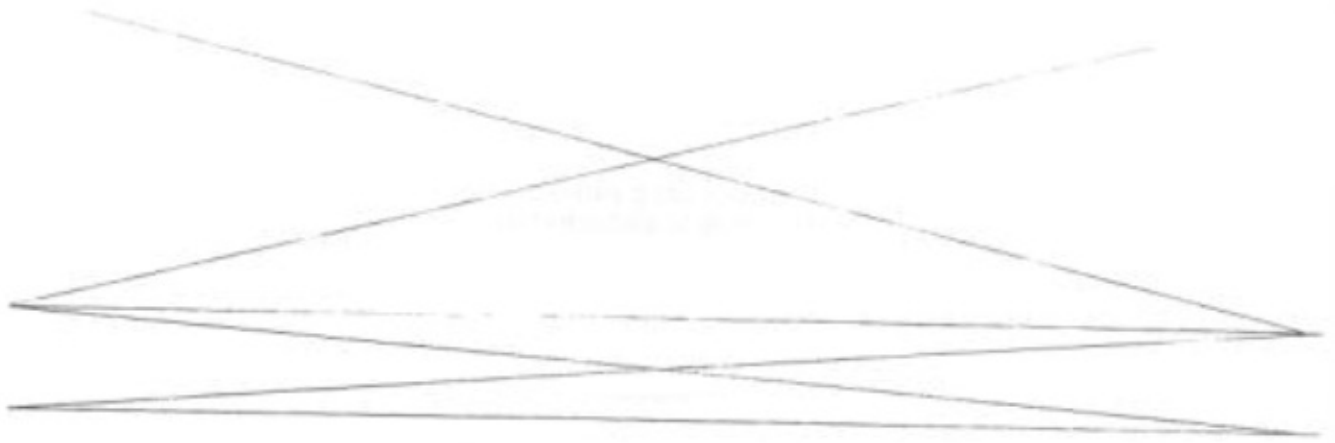
- A. حزيتان من نثاني أكسيد الكربون.
- B. أربع حزينات من الأبتانول ( $4 C_2H_5OH$ ).
- C. ست حزينات من الماء ( $6H_2O$ ).
- D. حزيتان من الأبتانول ( $2 C_2H_5O$ ).

4 - يحوي الألياف العصبية على:

- A. حزينات دهنية قابلة للتفص.
- B. حزينات سكرية قابلة للتفص.
- C. بروتينات قابلة للتفص.
- D. خيطات قابلة للتفص.

5 - خلال التفص العصبلي:

- A. ينقص طول الساركومير.
- B. يزداد طول الساركومير.
- C. تنزلق الأكتين بين الميوزين.
- D. يغير طول الخيطات.



6- يتطلب النشاط العضلي:

- A. ADP و ATP.
- B.  $CO_2$  و  $O_2$ .
- C.  $O_2$  و ATP.
- D.  $CO_2$  و ADP.

7- عند الخلية الحيوانية وخلال الانقسام غير المتساوي، تسجل:

- A. خلال المرحلة التمهيديّة، يتضاعف الجسم المركزي وتتكون النخيمة.
- B. خلال المرحلة النهائيّة، يختفي الغشاء الخلوي بين الخليتين البنين.
- C. يكون المعزل اللاتوني أقل بروزاً مما عليه في الخلية النباتية.
- D. يكون المعزل اللاتوني أكثر بروزاً مما عليه في الخلية النباتية.

8- الـ ADN جزيئه مكونه من:

- A. تسلسل دهنيات.
- B. تسلسل سكريات.
- C. تسلسل نيكليوتيدات.
- D. تسلسل بروتينات.

9 - البلعمة:

- A. لا تحدث إلا في العقد اللمفاوية.
- B. تتم بتدخل اللمفاويات T.
- C. لا تحدث إلا خلال طور التحريض.
- D. تشكل مرحلتها مهمة أثناء التعاون الخلوي خلال مرحلة التحريض.

10 - جزيئات CMH:

- A. هي كليكوبروتينات.
- B. هي مضادات أجسام.
- C. توجد فقط على مستوى الخلايا المناعية.
- D. توجد على مستوى جميع خلايا الجسم.

Nom et Prénom : .....  
Date et lieu de naissance : .....  
Signature obligatoire : .....

السرية

Anonymat / السرية

11 – العطفة F ab لجزينة كربون مناعي من صف IgG نطاق :  
السرية

- A. السلسلتان الخفيفتان لجزينة IgG فقط .
- B. السلسلتان الثقيلتان لجزينة IgG فقط .
- C. القطعة الثابتة لجزينة IgG فقط .
- D. القطعة المتغيرة للسلاسل الثقيلة والخفيفة لجزينة IgG .

12 – الاستجابة المناعية النوعية الخلوية:  
السرية

- A. لا تتطلب تدخل للمقاويات T4 .
- B. تتطلب تدخل انترلوكينات .
- C. تقضي على مولدات المضاد بتدخل كربونات مناعية و التكملة .
- D. تتطلب تدخل للمقاويات T8 .

13 – خلال المرحلة الانفصالية:  
السرية

- A. برداد حجم النواة و تظهر الصغيات على شكل خيوطان .
- B. تفقد الصغيات مطورها .
- C. تتجمع الصغيات على شكل صفحة استوائية .
- D. تنقسم الجزيئات المركزية في نفس الوقت بالنسبة لجميع الصغيات .

14 – يتشكل الانقسام الاحترالي مصدرا للتغير بنحة :  
السرية

- A. التحليط البيصفي الناتج عن الاقتراق غير المستقل للصغيات .
- B. التحليط البيصفي الناتج عن الاقتراق المستقل للصغيات .
- C. التحليط الضمصفي الناتج عن الاقتراق المستقل للصغيات .
- D. التحليط الضمصفي الناتج عن الاقتراق غير المستقل للصغيات .

15 - عندما يتزاوج بين ذبابات حل بطن رمادي وأجنحة عادية و ذبابات حل بطن اسود وأجنحة أنثية ،  
يسجل أن كلا من التحليل المسؤول عن الصفة "بطن رمادي " والتحليل المسؤول عن الصفة "أجنحة  
عادية" يعبر جليلا سائدا.  
من جهة أخرى، نسبة الأمشاج جديدة التركيب التي ينتجها فرد مختلف الاقتران بالنسبة للصفين ،بعد  
الانقسام الاختزالي، تقدر بـ 17% .  
التزاوج بين سلالة نقية ذات بطن رمادي وأجنحة عادية وسلالة نقية ذات بطن اسود وأجنحة أنثية  
يعطي جيلا F1 متجانسا مكون من أفراد هجاء.

- A. يتكون الجيل F1 من ذبابات حل جميعها بطن رمادي وأجنحة أنثية .  
B. ينتج أفراد الجيل F1 أربعة أصناف من الأمشاج حيث تقدر نسبة الأمشاج الابوية بـ 17% .  
C. يعطي التزاوج بين أفراد F1 جيلا حيث نجد  $1/16$  من الأفراد ثنائي النسخي .  
D. نسبة الأمشاج جديدة التركيب، الحاملة للتحليل المسؤول عن صفة بطن رمادي وللتحليل المسؤول عن صفة  
أجنحة أنثية ، تقدر بـ 8,5% .

16 - يعطي التزاوج الأول بين كلب بدون زغب و كلب عادي جيلا يتكون من 50% من الكلاب العادية و 50%  
من الكلاب بدون زغب. أما التزاوج الثاني الذي يتم بين كلاب بدون زغب فيما بينها، فيعطي جيلا مكونا  
من :  $1/3$  كلاب عادية و  $2/3$  كلاب بدون زغب .

- A. من خلال التزاوج الأول ، يمكن أن نستخلص أنها حالة هجونة احادية مع وجود مورثة مهيبة .  
B. من خلال التزاوج الأول ، يمكن أن نستخلص أن احد الابوين منشابه الاقتران والآخر مختلف الاقتران.  
C. من خلال التزاوج الأول ، يمكن أن نستخلص أنها حالة هجونة احادية مع وجود تحليل سائد وتحليل متنحي .  
D. من خلال المظاهر الخارجية المحصل عليها في التزاوج الثاني ، يمكن أن نستخلص أنها حالة هجونة احادية مع  
وجود مورثة مهيبة.

UNIVERSITE HASSAN II AIN CHOCK  
FACULTE DE MEDECINE DENTAIRE  
\*\*\* CASABLANCA\*\*\*

Concours d'entrée 2009  
Epreuve de physique

- يمنع استعمال الوثائق والهواتف النقالة،
- من بين الأجوبة المقترحة، هناك جواب واحد صحيح،
- جواب صحيح = [ نقطة، جواب خاطيء = () نقطة، عدة أجوبة = () نقطة،
- ضع علامة X في الخانة الموافقة للجواب الصحيح على بطاقة الأجوبة. وتسلم بعد ملئها بكل دقة وعناية.



### تمرين I : الموجات

نحنت عند اللحظة  $t=0$  بواسطة هزاز موجة متوالية جيبية طول حبل مر. يمثل الشكل جانبه مظهر الحبل عند اللحظة  $t=40 \text{ ms}$ .

Q.1 : طول الموجة  $\lambda$  هو :

(A): $\lambda=60\text{cm}$	(B): $\lambda=30\text{cm}$	(C): $\lambda=40\text{cm}$	(D): $\lambda=20\text{cm}$	(E): جواب آخر
----------------------------	----------------------------	----------------------------	----------------------------	---------------

Q.2 : قيمة N تردد الموجة هو :

(A): $N=60\text{Hz}$	(B): $N=8,75\text{Hz}$	(C): $N=87,5 \text{ Hz}$	(D): $N=40 \text{ Hz}$	(E): جواب آخر
----------------------	------------------------	--------------------------	------------------------	---------------

Q.3 : مقارنة اهتزاز حركتي النقطتين S و M :

(A): توافق في الطور	(B): تعاكس في الطور	(C): تربع في الطور	(D): على نفس الطور	(E): جواب آخر
---------------------	---------------------	--------------------	--------------------	---------------

### تمرين II : التحولات النووية

#### الجزء الأول :

يساهم اليود في تكوين الهرمونات الدرقية، ويعتبر تفره ضروريا لجسم الإنسان، ويتم امتصاصه على مستوى الغدة الدرقية على شكل أيونات اليودور. لليود نظير طبيعي  $^{127}_{53}\text{I}$  لا إشعاعي النشاط ونظير اصطناعي  $^{131}_{53}\text{I}$  إشعاعي النشاط  $\beta^-$ ، يتولد عن نقتته نويدة الكزيتون  $^{131}_{54}\text{X}$  ويستعمل في المجال الطبي.

المعطيات: عمر النصف لليود  $^{131}\text{I}$  :  $T=8,1\text{jours}$  ، الكتلة المولية الذرية لليود:  $M(^{131}\text{I})=135\text{g.mol}^{-1}$  ، ثابتة لوكندر:  $N_0=6,02.10^{23}\text{mol}^{-1}$

Q.4 : معادلة نقتت اليود  $^{131}\text{I}$  هي :

(A): $^{131}_{53}\text{I} + ^0_{-1}\text{e} \rightarrow ^{131}_{53}\text{X} + ^0_{-1}\text{e}$	(B): $^{131}_{53}\text{I} + ^1_1\text{e} \rightarrow ^{131}_{54}\text{X} + ^0_{-1}\text{e}$	(C): $^{131}_{53}\text{I} \rightarrow ^{131}_{53}\text{X} + ^0_{-1}\text{e}$
(D): $^{131}_{53}\text{I} \rightarrow ^{131}_{54}\text{X} + ^0_{-1}\text{e}$	(E): جواب آخر	

Q.5 : النشاط الإشعاعي  $a_0$  بالبيكريل (Bq) لعينة من اليود 131 كتلتها  $m=1\text{g}$  هو :

(A): $a_0=5,4.10^{15}$	(B): $a_0=4,4.10^{15}$	(C): $a_0=4,5.10^{15}$	(D): $a_0=5,4.10^{15}$	(E): جواب آخر
------------------------	------------------------	------------------------	------------------------	---------------

Q.6 : خلال فحص طبي للغدة الدرقية بمحلول اليود ذي النشاط الإشعاعي  $37.10^6\text{Bq}$  ، كتلة اليود  $^{131}\text{I}$  التي يستلزم حقنها هي :

(A): $m_0=8,3.10^9\text{g}$	(B): $m_0=0,83.10^{10}\text{g}$	(C): $m_0=8,3.10^9\text{g}$	(D): $m_0=0,83.10^9\text{g}$	(E): جواب آخر
-----------------------------	---------------------------------	-----------------------------	------------------------------	---------------

#### الجزء الثاني :

يتم قذف نوي الليتيوم  $^7_3\text{Li}$  في حالة سكون ببروتونات طاقتها الحركية  $0,60\text{MeV}$ ، فحصل على دفتين  $\alpha$  لهما نفس الطاقة الحركية

نعطي:  $m(Li) = 7,01435 \text{ u}$  ،  $m_p = 1,00727 \text{ u}$  ،  $1\text{u} = 931,5\text{MeV} \cdot \text{C}^{-2}$  ،  $m(H_e) = 4,00150 \text{ u}$

Q.7 : معادلة التفاعل النووي هي :

(A): $^7_3\text{Li} + \alpha \rightarrow 2^4_2\text{H}_e$	(B): $^7_3\text{Li} \rightarrow ^1_1\text{p} + 2^4_2\text{H}_e$	(C): $^7_3\text{Li} + ^1_1\text{p} \rightarrow 2^4_2\text{H}_e$
(D): $^7_3\text{Li} \rightarrow 2^4_2\text{H}_e + ^1_1\text{p}$	(E): جواب آخر	

Q.8 : الطاقة الكتلية  $\Delta E$  المحورة خلال هذا التفاعل هي :

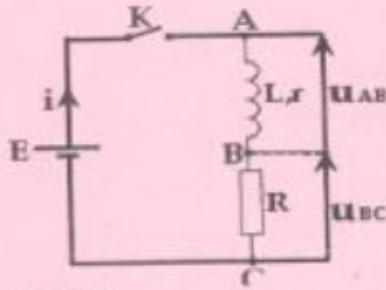
(A): $\Delta E=4,1\text{MeV}$	(B): $\Delta E=27,3\text{MeV}$	(C): $\Delta E=9\text{MeV}$	(D): $\Delta E=18,6\text{MeV}$	(E): جواب آخر
-------------------------------	--------------------------------	-----------------------------	--------------------------------	---------------

Q.9 : الطاقة الحركية  $E_c(\alpha)$  للدفتة  $\alpha$  هي :

(A): $E_c(\alpha)=18\text{MeV}$	(B): $E_c(\alpha)=9,62\text{MeV}$	(C): $E_c(\alpha)=931,5\text{MeV}$	(D): $E_c(\alpha)=4,74\text{MeV}$	(E): جواب آخر
---------------------------------	-----------------------------------	------------------------------------	-----------------------------------	---------------

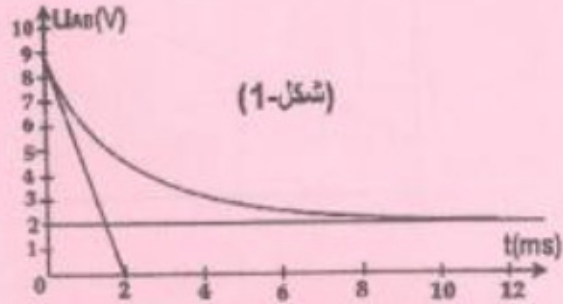
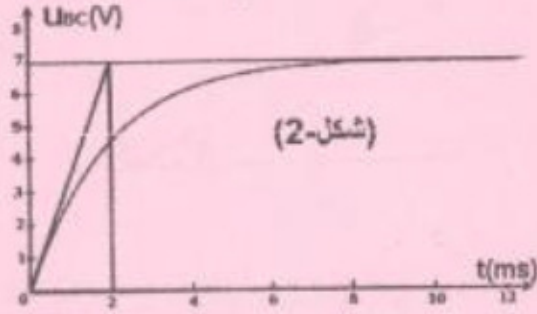


**تمرين III : ثنائي القطب (R,L)**



تتكون الدارة الكهربائية جانبية من العناصر التالية :  
 - مولد للتوتر المستمر فولته الكهرومحرقة E  
 - وشيعة معامل تحريضها L و مقاومتها  $r=10\Omega$   
 - موصل أومي مقاومتته R ، وقاطع للتيار K .

يمكن كائف التنظيد الذاكرالي من معاينة التوتر  $U_{AB}$  بين مرطبي الوشيعة (شكل-1)  
 والتوتر  $U_{BC}$  بين مرطبي الموصل الأومي (شكل-2) بدلالة الزمن  
 نعتبر لحظة اغلاق قاطع التيار K أصلا للتواريخ ( $t=0$ ) .



**Q.10 :** قيمة القوة الكهرومحرقة E هي :

(A): 5 V	(B): -5 V	(C): 9 V	(D): 14 V	(E): جواب آخر
----------	-----------	----------	-----------	---------------

**Q.11 :** قيمة المقاومة R هي :

(A): 20 $\Omega$	(B): 25 $\Omega$	(C): 30 $\Omega$	(D): 35 $\Omega$	(E): جواب آخر
------------------	------------------	------------------	------------------	---------------

**Q.12 :** قيمة معامل التحريض L عندما تأخذ ثابتة الزمن  $\tau$  القيمة  $\tau=2ms$  هي :

(A): 20 H	(B): 20 mH	(C): 90 H	(D): 90 mH	(E): جواب آخر
-----------	------------	-----------	------------	---------------

**Q.13 :** تعبير شدة التيار  $i(t)$  بدلالة L و E و R و  $r$  يكتب على الشكل التالي :

(A): $\frac{E}{R-r}(1+e^{-\frac{R+r}{L}t})$	(B): $\frac{E}{R-r}(1+e^{\frac{R+r}{L}t})$	(C): $\frac{E}{R+r}(1+e^{-\frac{R-r}{L}t})$	(D): $\frac{E}{R+r}(1+e^{\frac{R+r}{L}t})$	(E): جواب آخر
---	--	---	--	---------------

**Q.14 :** عند اللحظة  $t=0,003s$  تأخذ شدة التيار القيمة :

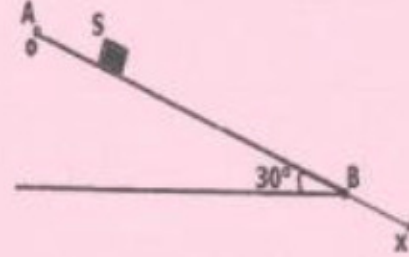
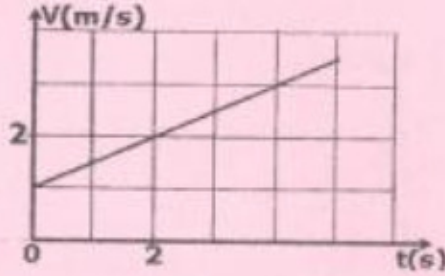
(A): 115 mA	(B): 135 mA	(C): 155 mA	(D): 175 mA	(E): جواب آخر
-------------	-------------	-------------	-------------	---------------

**Q.15 :** قيمة الطاقة المخزونة في الوشيعة عند اللحظة  $t=0,003s$  هي :

(A): 1,1 mJ	(B): 2,2 mJ	(C): 0,86 mJ	(D): 1,72 mJ	(E): جواب آخر
-------------	-------------	--------------	--------------	---------------

**تمرين IV: الميكانيك**

يمثل الشكل أسفله جسما صلبا S، كتلته  $m=100g$ ، يمكنه الانزلاق فوق سكة مستقيمة طولها  $AB=1m$  و مائلة بزاوية  $\alpha=30^\circ$  بالنسبة للمستوى الأفقي. نرسل عند اللحظة  $t=0$ ، الجسم S بسرعة بدئية  $V_0$  من النقطة A. يمثل المبيان تغيرات V سرعة الجسم S بدلالة الزمن. (تأخذ  $g=10m.s^{-2}$ )



**Q.16 :** تحديد قيمة تسارع مركز قصور الجسم S :

(A): $a_G=2m.s^{-2}$	(B): $a_G=1m.s^{-2}$	(C): $a_G=0,5m.s^{-2}$	(D): $a_G=0,2m.s^{-2}$	(E): جواب آخر
----------------------	----------------------	------------------------	------------------------	---------------

**Q.17 :** قيمة  $V_B$  سرعة الجسم S عند مروره بالنقطة B :

(A): $V_B=1,14m/s$	(B): $V_B=1,41m/s$	(C): $V_B=4,14m/s$	(D): $V_B=4,11m/s$	(E): جواب آخر
--------------------	--------------------	--------------------	--------------------	---------------

**Q.18 :** يصل الجسم S إلى النقطة B عند أي اللحظة  $t_B$  :

(A): $t_B=0,61s$	(B): $t_B=0,83s$	(C): $t_B=1,83s$	(D): $t_B=3,80s$	(E): جواب آخر
------------------	------------------	------------------	------------------	---------------

**Q.19 :** قيمة  $W(\vec{P})$  شغل وزن الجسم S خلال الانتقال  $\vec{AB}$  :

(A): $W=0,2J$	(B): $W=0,3J$	(C): $W=0,4J$	(D): $W=0,5J$	(E): جواب آخر
---------------	---------------	---------------	---------------	---------------

**Q.20 :** استنتاج  $w'(R)$  شغل القوة التي يملكها المستوى المائل على S :

(A): $w'=-0,25J$	(B): $w'=-0,35J$	(C): $w'=-0,45J$	(D): $w'=-0,55J$	(E): جواب آخر
------------------	------------------	------------------	------------------	---------------

جامعة الحسن الثاني عين الشق  
كلية طب الأسنان  
الدار البيضاء

مباراة الولوج برسم السنة الجامعية : 2009/2010

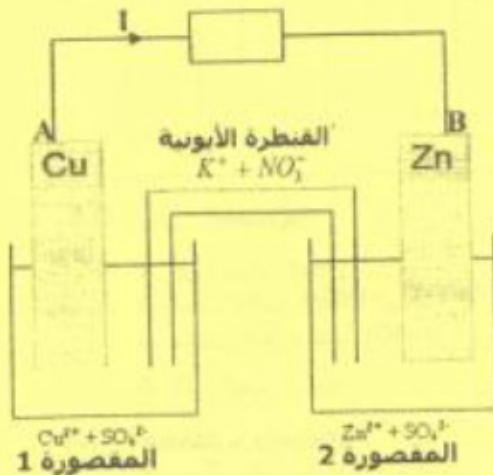
مادة الكيمياء (مدة الإنجاز 30 دقيقة)

نمرين: 1: (4 نقط)

ضع علامة X في الخانة الموافقة للجواب الصحيح على بطاقة الأجوبة

نحدر التركيب الممثل جانبه:  
و نعلم أن:

- > عندما نغمر صفيحة من الزنك في محلول كبريتات النحاس II، ننوع عليها طبقة صلبة حمراء اللون.
- > في حين لا تسجل أي ملاحظة عندما نغمر صفيحة من النحاس في محلول كبريتات الزنك.



Q.1 - على مستوى الإلكترودين:

- A. تحدث أكسدة فلز النحاس عند الأنود.
- B. يحدث فلز النحاس عند الكاثود.
- C. A هو القطب الموجب + و B هو الأنود.
- D. يجمع فلز الزنك إلى الاحتزال .

Q.2 - تطور المجموعة:

- A. يبقى تركيز الأيونات  $Zn^{2+}$  ثابتا.
- B. ينخفض تركيز الأيونات  $Cu^{2+}$  مع مرور الزمن.
- C. تتزايد كتلة فلز الزنك Zn.
- D. يحول العمود الطاقة الكهربائية إلى طاقة كيميائية.

Q.3 - يغير التيار الكهربائي:

- A. تنتقل الإلكترونات خارج العمود من A نحو B .
- B. يعمر التيار الكهربائي عبر الفنترة الأيونية من المقصورة 1 إلى المقصورة 2.
- C. تنتقل الأيونات  $NO_3^-$  في نفس منحى التيار.
- D. تؤول الشدة I للتيار إلى قيمة معدومة.

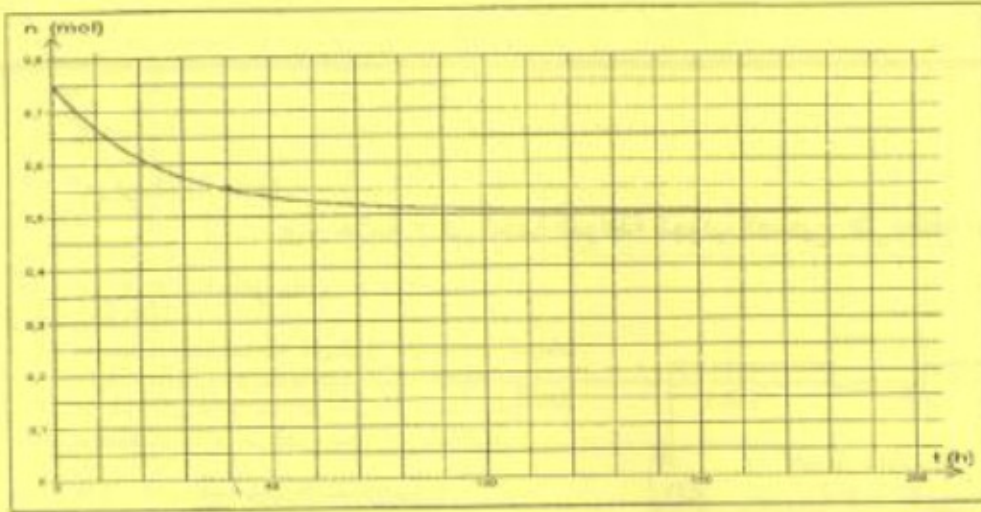
Q.4 - عندما نفتح الدارة الخارجية:

- A. لا يلاحظ أي تفاعل على مستوى الإلكترودين .
- B. يحدث تحمیل كهربائي داخل الفنترة الأيونية.
- C. تكون شدة التيار  $I > 0$  وتوجد الإلكترودين على نفس الجهد الكهربائي.
- D. يكون التوتر  $E_{cell} = 0$  وشدة التيار  $I = 0$  .

بهرين، 2: (4 نعط)

ضع علامة X في الخانة الموافقة للجواب الصحيح على بطاقة الأجوبة

نحضر خليطا متساوي المولات يتكون من  $n_0$  مول لإيثانوات البروبيل (éthanoate de propyle) و  $n_0$  مول من الماء الحاصل. يمكن تتبع كمية المادة  $n$  للإستر بدلالة الزمن من الحصول على المسار التالي:



Q.5 - تطور المجموعة:

- A. كمية المادة  $n_0 = 1 \text{ mol}$ .
- B. التقدم الأقصى  $x_{\text{max}} = 0.5 \text{ mol}$ .
- C. يتحقق التوازن عند:  $t = 40 \text{ h}$ .
- D. ثابتة التوازن تساوي  $\frac{1}{4}$ .

Q.6 - المتفاعلات والنواتج:

- A. يسمى هذا التفاعل حلمأة.
- B. الصيغة نصف المنشورة لإيثانوات البروبيل هي:  $\text{CH}_3\text{CH}_2\text{COOCH}_2\text{CH}_3$ .
- C. أحد النواتج هو حمض البروبانويك.
- D. الناتج الآخر هو:  $\text{CH}_3\text{CH}_2\text{OH}$ .

Q.7 - سرعة التفاعل:

- A. السرعة المتوسطة خلال الأربعين ساعة الأولى تساوي  $5 \cdot 10^{-3} \text{ mol} \cdot \text{h}^{-1}$ .
- B. السرعة البدئية محصورة بين القيمتين  $3 \cdot 10^{-3} \text{ mol} \cdot \text{h}^{-1}$  و  $4 \cdot 10^{-3} \text{ mol} \cdot \text{h}^{-1}$ .
- C. يؤدي ارتفاع درجة الحرارة إلى انخفاض سرعة التفاعل.
- D. ينتج عن إضافة حمض قوي ( $\text{H}_2\text{SO}_4$ ) انخفاض سرعة التفاعل.

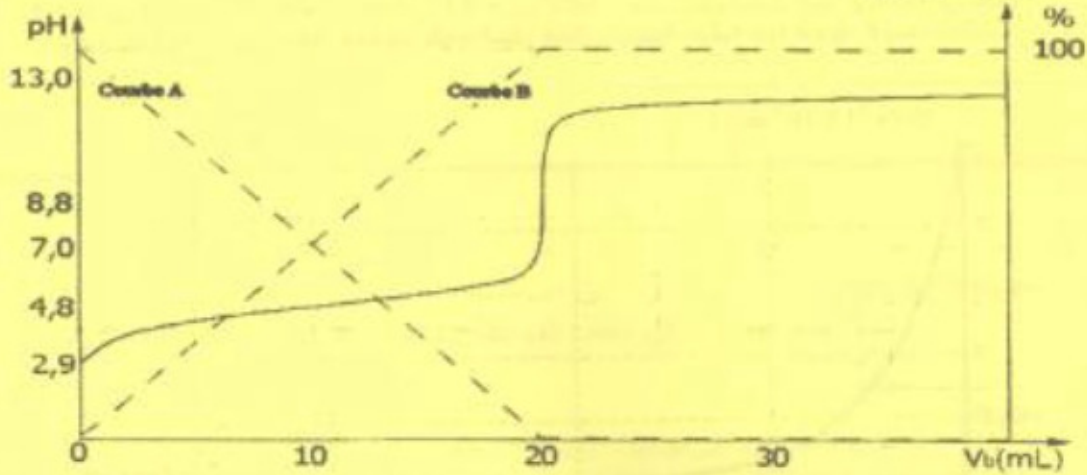
Q.8 - الرفع من مردودية التفاعل يعني:

- A. تسخين الخليط المتفاعل.
- B. إضافة متفاعل بوفرة.
- C. الرفع من درجة الحرارة والضغط في آن واحد.
- D. استعمال حفاز.

يمرر 3: (4 نقت)

ضع علامة X في الخانة الموافقة للجواب الصحيح على بطاقة الأجوبة

نتوفر على محلول مائي S لحمض AH ذي تركيز C. نمكن دراسة تتبع التفاعل الحاصل بين S ومحلول مائي S' لهيدروكسيد الصوديوم له نفس التركيز.  $C = 1,0 \cdot 10^{-1} \text{ mol} \cdot \text{L}^{-1}$  من الحصول على المنحنيات الممثلة في الشكل التالي:



Q.9 - دراسة المحلول S :

- A. التحليل البروتوني الذاتي للماء لا يتدخل في هذا المحلول .
- B. pH المحلول S يساوي 2,9 .
- C. تفاعل الحمض AH مع الماء كلي.

D. ثابت التوازن لتفاعل الحمض AH مع الماء تكتب:  $K = \frac{[H_3O^+]_f \times [AH]_f}{[A^-]_f}$

Q.10 - عند نقطة تقاطع المنحنيين A و B الممثلين للنسب المئوية لحمض AH والقاعدة A<sup>-</sup> للمردوجة AH/A<sup>-</sup> نحصل على:

- A. محلول محايد .
- B. pH يساوي  $\frac{1}{2} pK_a$  المردوجة AH/A<sup>-</sup> .
- C. نسبة التقدّم تساوي 50% .
- D. اختفاء كلي للحمض AH .

Q.11 - هيمنة الحمض AH والقاعدة A<sup>-</sup>

- A.  $[AH] > [A^-]$  عندما يكون  $pH > 4,8$  .
- B. تحقق العلاقة  $\frac{[AH]}{[A^-]} = 1$  بالنسبة ل:  $pH = 7$  .
- C.  $[A^-] = C$  عند نقطة التكافؤ .
- D.  $[AH] = [A^-]$  عند نقطة تقاطع المنحنيين A و B .

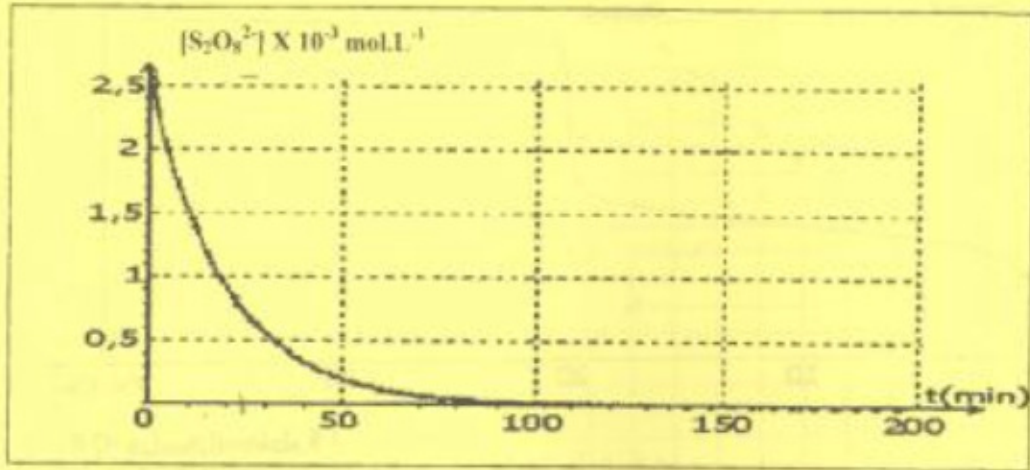
Q.12 - التفاعل بين S و S'

- A. معادلة التفاعل هي:  $AH_{(aq)} + HO_{(aq)} \longrightarrow A^-_{(aq)} + H_2O_{(l)}$
- B. التحول محدود .
- C. يمكن تحديد نقطة التكافؤ باستعمال الكاشف الملون أحمر الميتل ذي منطقة الأعطاف (3,0 - 4,6)
- D. حجم المحلول S المتمايز يساوي: 10 mL .

بهرين، 4: (8 نقط)

ضع علامة X في الخاتمتين الموافقتين للجوابين الصحيحين على بطاقة الأجوبة

I- نمدج التحول الحاصل بين أيونات بيروكسو ثنائي كبريتات  $S_2O_8^{2-}$  (aq) و أيونات اليودور  $I^-$  (aq) بالمعادلة التالية:  $S_2O_8^{2-}$  (aq) + 2  $I^-$  (aq)  $\longrightarrow$  2  $SO_4^{2-}$  (aq) +  $I_2$  (aq) حيث ينمسر ثنائي اليود المتكون عن باقي الأنواع الكيميائية المتواجدة في المحلول بلونه البنى. تعطي دراسة حركية هذا التحول المعينات التالي



Q.13- استعمل أحد المتفاعلين بوفرة:

- A. لاعب أيونات بيروكسو ثنائي كبريتات دور المؤكسد .
- B. أيون اليودور هو المتفاعل المحد .
- C. تتزايد سرعة التفاعل مع مرور الزمن .
- D. هذا التحول بطئ وكلى .

Q.14- تتم معايرة ثنائي اليود المتكون بواسطة أيونات ثيوكبريتات حسب المعادلة:



- A. هذا التفاعل حمض- قاعدي .
- B. يعين التكافؤ يظهر لون بني .
- C. يصبح المحلول لا لون له عند التكافؤ .

D. تقدم تفاعل المعايرة عند التكافؤ هو:  $n(S_2O_8^{2-}(aq))_{(المستهلك)} \cdot X_{(aq)} = \frac{2}{1}$

Q.15- زمن نصف التفاعل هو:

- A. نصف المدة الزمنية التي يستغرقها التحول .
- B. المدة الزمنية التي عند تمامها يصل تقدم التفاعل إلى نصف قيمته النهائية.
- C. المدة الزمنية اللازمة لاستهلاك نصف كمية المادة البدئية للمتفاعل الموجود بوفرة .
- D. مينايا زمن نصف التفاعل محصور بين 10 و 20min .

II- نمدج اردواجية تحول الماء الأوكسجيني بالمعادلة التالية:  $2 H_2O_2 (aq) \longrightarrow 2 H_2O(l) + O_2(g)$

Q.16

- A. نصف معادلة الاحتراق هي:  $H_2O_2 + 2e^- + 2H^+ \rightleftharpoons 2H_2O$
- B. ينتج عن استعمال 4 mol من  $H_2O_2$  في 100 L من غاز ثنائي الأوكسجين، (الحجم المولي في ظروف التجربة هو:  $V_m = 25 L \cdot mol^{-1}$ ).
- C. الماء الأوكسجيني يلعب دور المؤكسد والمختزل في نفس الوقت .
- D. عند كل لحظة t:  $n(O_2)_{(المستحدث)} = n(H_2O_2)_{(المستهلك)}$